


VAMOS RESOLVER A CONTA

	=
--	---

--



5

6

1

2

3

4

5

6

1

2


3

4





Mario Bros tem 2
pedaços de pizza e
pegou mais 3. Com
quantos ficou?



Olaf tem 3 pedaços
de pizza e **pegou
mais** 3. Com quantos
ficou?



Alice possui 3
pedaços de pizza e
pegou mais 3. Com
quantas ficou?



Luigi tem 4
pedaços de pizza e
comeu mais 2.
Com quantos ele
ficou?



Branca de Neve tinha
4 fatias de pizza e
comeu 2. Com
quantas ela ficou?




O senhor Cogumelo tem
2 pedaços de pizza e
ganhou mais 1. Com
quantas ele ficou?



Ariel tinha 5
pedaços de pizza e
deu 2. Com quantos
ficou?



Princesa Piti tem 1
pedaço de pizza e
recebeu mais 1. Com
quantos ela ficou?



Branca de Neve tem 6
fatias de pizza e
perdeu 2. Com
quantas ela ficou?



Luigi tem 4
pedaços de pizza
perdeu 2. Com
quantos ele ficou?

